

对外经济贸易大学

《国际经济学》期末考试试卷（A卷）

课程代码及课序号：ECON202—0

参考答案

一、选择题

1.B 2.B 3.C 4.D 5.B 6.B 7.C 或 D（即“大于”正确） 8.C 9.B 10.C

二、判断题

1.× 2.× 3.× 4.× 5.× 6.√ 7.× 8.√ 9.× 10.×

三、解释名词

1、假定商品价格不变（1分），如果一种生产要素增加，会导致密集使用这种生产要素的产品产量增加，同时另一种商品产量则减少。（3分）。图示（2分）

2、贸易大国由于经济增长导致出口大幅度增加（1分），使贸易条件下将造成的福利损失超过经济增长带来的福利提高，最终导致净福利水平下降（2分）。其发生的条件为：外国需求弹性较低；本国外贸依存度高；在价格不变下，增长使出口大增。（1.5分）图示（1.5分）

3、在供给弹性无穷大的情况下，本币贬值能够改善贸易收支的进出口需求弹性条件（2分）。即如果某国对进口品的需求弹性与外国对该国出口品的需求弹性之和大于1，货币贬值将促进该国恢复贸易平衡（3分）。其公式为： $dx + dm > 1$ （1分）。

四、

1. $Y=C+I+(X-M)=350+0.75Y, Y=1400$ （5分）

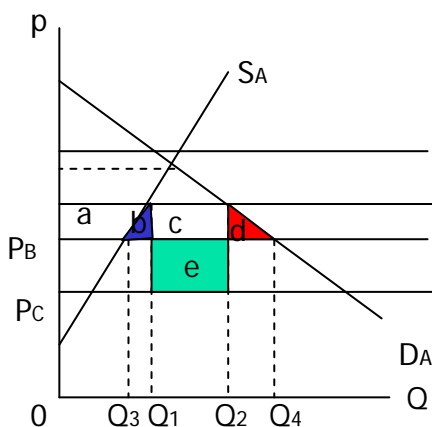
$S=-50+0.2Y=230; M=0.05Y=70$ （3分）

$K=1/(m+s)=4$ （3分）

2. $Y=C+I+(X-M)=450+0.75Y, Y=1800$ ，（3分） $\Delta Y=400$ （2分） $\Delta NX=-20$ （2分）

五、

1. 关税同盟定义（2分）；



关税同盟福利分析（画图），贸易创造效应和贸易转移效应。

A、B 两国组成关税同盟

消费者剩余： $a+b+c+d$ (1分)

生产者剩余： $-a$ (1分)

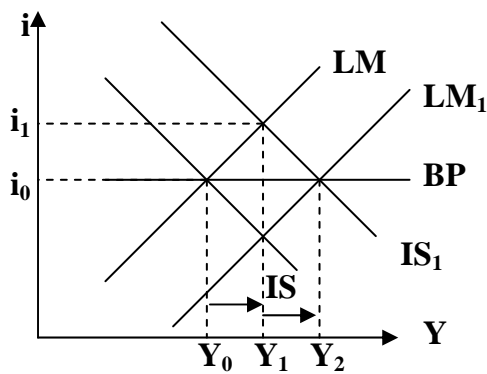
政府收入： $-(c+e)$ (2分)

净福利效应 = $(b+d) - e$ (2分)

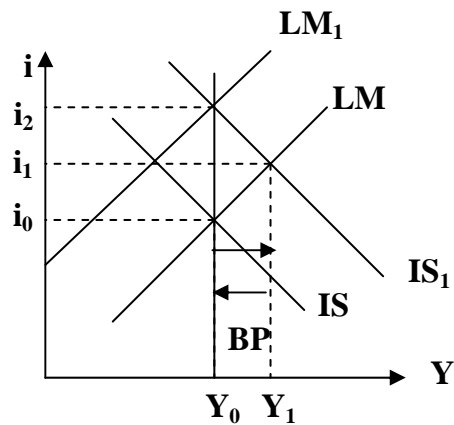
($b+d$) 为贸易创造的福利效应 (2分)， e 表示贸易转移的福利效应 (2分)。

2、(1) 固定汇率下的效果 (6分)

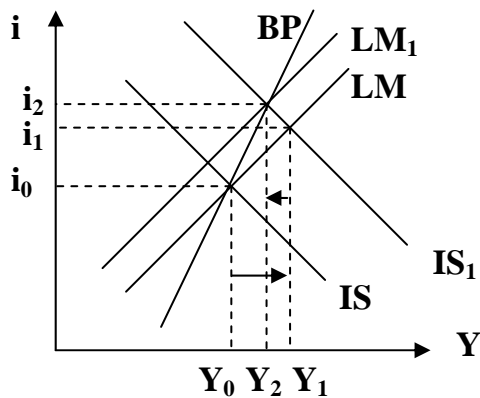
资本完全流动



资本完全不流动



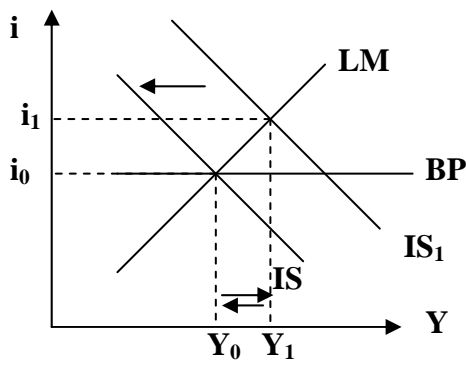
资本不完全流动



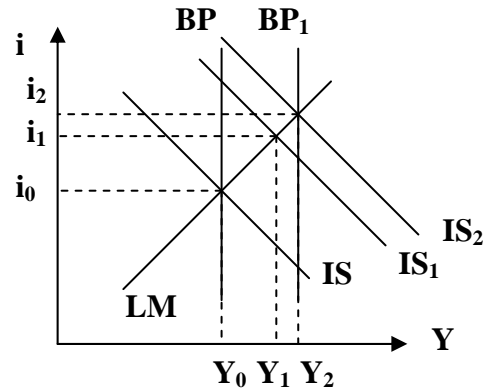
在固定汇率下，除了资本完全不流动的情况，财政政策可有效地影响收入水平。

(2) 浮动汇率下的效果 (6分)

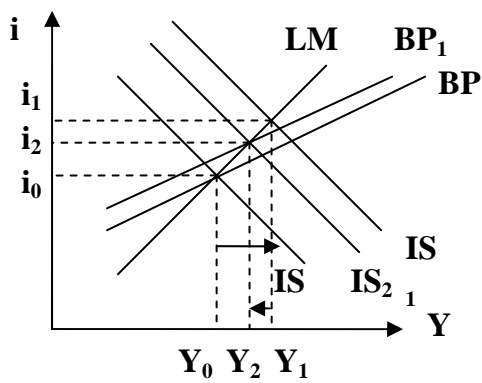
资本完全流动



资本完全不流动



资本不完全流动



在浮动汇率制度下，财政政策的有效性依赖于资本可流动的程度。可流动性越高，效果越小。
 资本为完全和相对不可流动时，财政政策是有效的。
 在资本相对可流动时，财政政策的一部分效果被抵消。
 在资本完全可流动时，财政政策是完全无效的。