

对外经济贸易大学

《国际经济学》期末考试试卷（B卷）

课程代码及课序号：ECON202—0

一、单项选择题：（每空 2 分，共 20 分）

A B C B C D D D B B

二、判断题：（每题 2 分，共 20 分，请分别用“√”或“×”表示“正确”或“错误”）

1. × 2. √ 3. × 4. √ 5. √ 6. √ 7. × 8. × 9. × 10. ×

三、名词解释：（每题 6 分，共 18 分）

1、一国货币贬值后，贸易收支对汇率做出反应的过程或变化的轨迹。即当货币贬值后，通常由于短期弹性低于长期弹性，在短期内贸易收支先恶化，经过一段时间后才逐步改善。

2、即要素价格均等化定理。国际贸易会使各国同质要素获得相同的相对与绝对收入。H-O-S 定理表明国际间商品的自由贸易可以替代要素的流动。

3、在供给弹性无穷大的情况下，本币贬值能够改善贸易收支的进出口需求弹性条件。即如果某国对进口品的需求弹性与外国对该国出口品的需求弹性之和大于 1，货币贬值将促进该国恢复贸易平衡。其公式为： $dx + dm > 1$ 。

四、计算题（18 分）

1、 $M = D - S = 200$ 袋2、 $M = D - S = 50$ 袋3、 $C' = 500$ 美元 $S' = 250$ 美元; $R = 500$ 美元

五、论述题（每题 12 分，共 24 分）

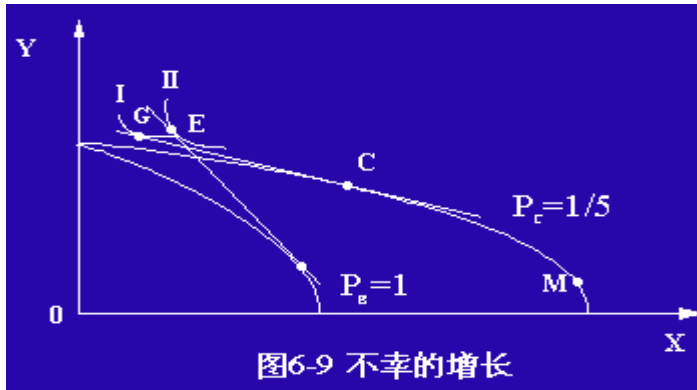
1. 经济增长到执政的福利效应和顺贸易效应，但由于贸易条件下降很多，使静福利效应为负。图示说明

不幸的增长发生的条件：

增长使出口大增

外国需求弹性低

外贸依存度高



2. 可以小国为例图示分析

图 1 出口市场 (3 分)

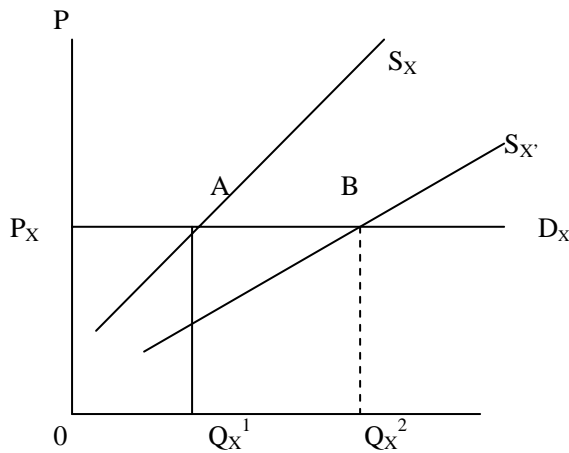
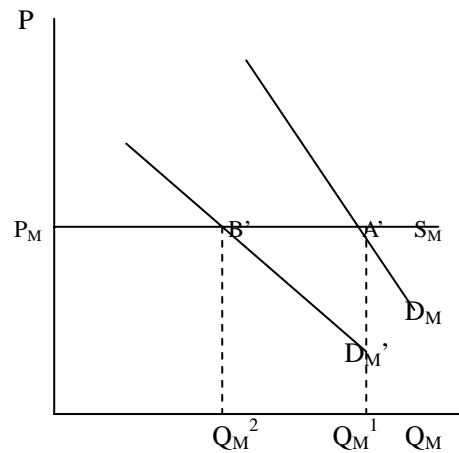


图 2 进口市场 (3 分)



小国所面临的外国对本国的进口供给及出口需求曲线均为水平线。图 1 中由于贬值出口商品竞争力提高，供给增加， S_x 下移到 $S_{x'}$ ，出口量由 Q_x^1 增至 Q_x^2 ，外汇供给由 $O Q_x^1 P_x A$ 升至 $O Q_x^2 P_x B$ 。图 2 由于贬值，国际价格不变，本国消费者所面临的进口商品国内价格上升，需求减少， D_M 下移到 $D_{M'}$ ，进口量由 Q_M^1 降至 Q_M^2 ，外汇需求由 $O Q_M^1 P_M A'$ 降至 $O Q_M^2 P_M B'$ 。(5分)

小国贬值后，由于不影响国际市场价格，其出口商品竞争力提高，外汇供给增加，外汇需求减少，因而贬值能够改善贸易收支。(1分)

